

**Математика. 1 клас. Виконай  
за 5 хвилин. У трьох частинах.  
Частина 3. Другий десяток із  
переходом через розряд.  
НУШ**

**КУПИТИ**

# Про книгу

Подані завдання, виконуючи на час, допоможуть в ігровій формі закріпити навички додавання і віднімання. Матеріал зошита відповідає Державному стандарту початкової освіти та типовим освітнім програмам. Для учнів 1 класу.



Нова українська школа

Марко БЕДЕНКО

# ВИКОНАЙ



# ЗА



ДРУГИЙ ДЕСЯТОК

ІЗ ПЕРЕХОДОМ ЧЕРЕЗ РОЗЯРД



клас **1**

# ХВИЛИН



Частина **3**

Марко Беденко

# ВИКОНАЙ **5** ХВИЛИН ЗА

## Математика 1 клас

*У трьох частинах*

Частина 3

**Другий десяток:  
дії з переходом  
через розряд**



ТЕРНОПІЛЬ  
НАВЧАЛЬНА КНИГА – БОГДАН

УДК 51(075.2)  
ББК 22.1я71  
Б 38

**Беденко М. В.**

Б 38 Виконай за 5 хвилин. Математика : 1 кл. : в 3 ч.  
Ч. 3 : Другий десяток : дії з переходом через розряд. /  
М. В. Бе денко. — Тернопіль : Навчальна книга –  
Богдан, 2022. — 48 с.

ISBN 978-966-10-8524-3

Подані завдання, виконуючи на час, допоможуть в ігровій  
формі закріпити навички додавання і віднімання.

Матеріал зошита відповідає Державному стандарту початко-  
вої освіти та типовим освітнім програмам.

Для учнів 1 класу.

**УДК 51(075.2)**  
**ББК 22.1я71**

*Охороняється законом про авторське право. Жодна частина цього видання  
не може бути відтворена в будь-якому вигляді без дозволу автора чи видавництва*

---

*Навчальне видання*

БЕДЕНКО Марко Васильович

**ВИКОНАЙ ЗА 5 ХВИЛИН**

**Математика 1 клас**

У трьох частинах

Частина 3

**Другий десяток:**

**дії з переходом через розряд**

Головний редактор *Богдан Будний*

Редактор *Вікторія Дячун*

Обкладинка *Володимира Басалиги*

Комп'ютерна верстка *Надії Магальяс*

Підписано до друку 30.11.2021. Формат 60х90/16. Папір офсетний.  
Гарнітура Прагматика. Умовн. друк. арк. 3,00. Умовн. фарбо – відб. 3,00.

Видавництво «Навчальна книга – Богдан»  
Свідоцтво про внесення суб'єкта видавничої справи до Державного реєстру видавців,  
виготівників і розповсюджувачів видавничої продукції  
ДК №4221 від 07.12.2011 р.

Навчальна книга – Богдан, просп. С. Бандери, 34а, м. Тернопіль, 46002  
Навчальна книга – Богдан, а/с 529, м. Тернопіль, 46008  
тел./факс (0352) 52-06-07, 52-05-48, 52-19-66  
office@bohdan-books.com, [www.bohdan-books.com](http://www.bohdan-books.com)

© Навчальна книга – Богдан, 2022

# 5555555555555555

## Розв'яжи на час

Художник намалював 5 портретів, а пейзажів — на 4 більше. Скільки пейзажів намалював художник?

### Розв'язання

$$\square \square \square = \square$$

Відповідь:  \_\_\_\_\_



$5 + 4 = \square \square$

$16 - 6 = \square \square$

$1 + 9 = \square \square$

$12 - 2 = \square \square$

$2 + 8 = \square \square$


$10 - 8 = \square \square$

$10 + 5 = \square \square$

$10 - 4 = \square \square$

$4 + 6 = \square \square$

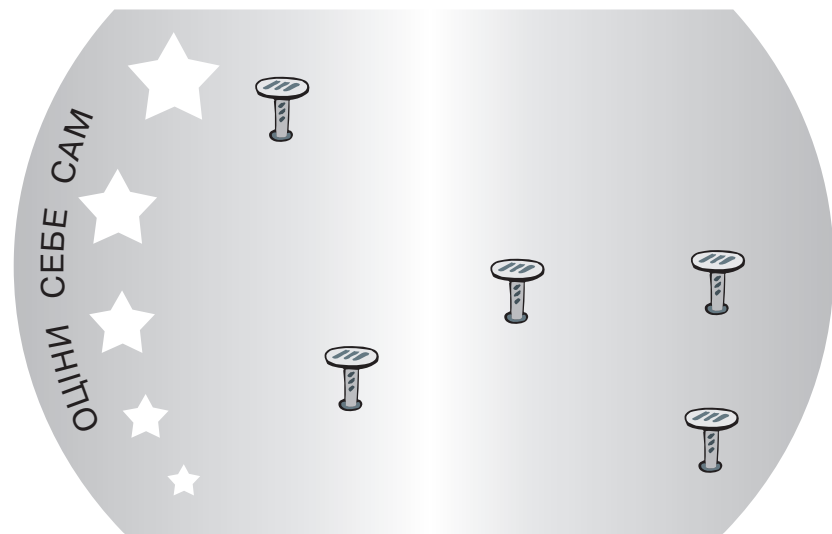
$10 - 5 = \square \square$



# 5555555555555555

Розв'язуй, не поспішаючи 5

Із зображених на малюнку цвяшків лише три знаходяться на одній прямій лінії. З'єднай їх.



$10 + 4 = \square \square$

$11 - 1 = \square \square$

$9 + 2 = \square \square$

$10 - 5 = \square \square$

$3 + 7 = \square \square$


$8 - 6 = \square \square$

$2 + 6 = \square \square$

$7 - 4 = \square \square$

$2 + 8 = \square \square$

$11 - 2 = \square \square$



Кінець  
безкоштовного  
уривку. Щоби читати  
далі, придбайте,  
будь ласка, повну  
версію книги.

**ridmi**  
ТВІЙ УЛЮБЛЕНИЙ КНИЖКОВИЙ

**КУПИТИ**